


Грибы

Белка Марфа вся в трудах:
 На пороге осень, –
 Надо засушить грибов,
 Их у белки... (восемь),
 Но проблема есть одна,
 Белка огорчается:

– Все грибы на сук один
 Никак не помещаются!
 Рано, белка, слёзы лить,
 Мы тебе поможем
 И грибы на двух ветвях
 Быстро расположим!




8	
8	
7	
6	
5	
4	
3	
2	
1	

Как бы мне развесить восемь грибов на двух веточках? Нарисуй. Напиши ответ в «домике».



Рассмотри картинки и реши примеры.



$$2+3=$$




$$3-1=$$



$$4+4=$$



$$5-2=$$



$$3+3=$$



$$7-4=$$



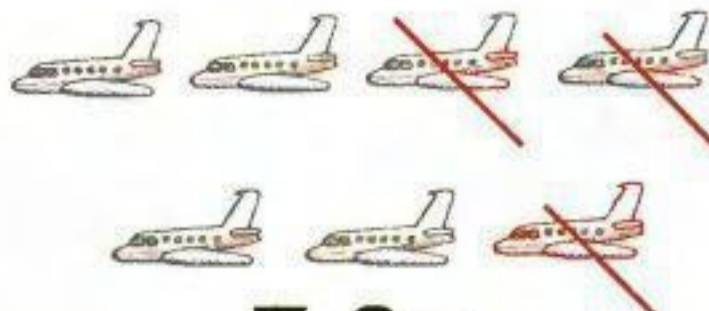
$$5+2=$$



$$6-2=$$



$$7+1=$$



$$7-3=$$

Впиши недостающие числа.

8	
5	
	7
6	
	8

10	
3	
	1
4	
	2
5	

9	
1	
	3
4	
	2

Впиши недостающие числа.

4	
2	
	1

6	
4	
	5
1	

8	
	6
7	
	3
4	

7	
4	
	5
1	

5	
	3
4	